


Nombre _____


Calificación _____

1 Datos Básicos



	=		9	3	2	10	8	15
	=		+ 9	+ 6	+ 4	- 7	- 5	- 8
	=							
	=							

2 Patrones y Progresiones


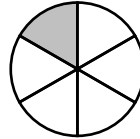
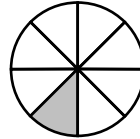


Cada uno: 1, 2, 3, 4, _____, _____



La suma: 1, 3, 6, 10, _____, _____

3 Fracciones

Anota una fracción que represente la parte coloreada.

4 Hora

Josué empezó a la(s):  Terminó a la(s): 

← La tarea demoró 5 minutos. →

5 Algoritmos

208	\$1.16	902	601
+ 17	+ 4.91	- 455	- 324


6 Anotación de Números

tres mil trescientos

C	M	D	M	C	D	U
millares						

7 Problemas de Palabra

Siete niños y siete niñas fueron invitados a la fiesta. Cinco de ellos no vinieron. ¿Cuántos fueron a la fiesta?




8 Palabras y Símbolos

Anota una ecuación que mencione que tenía 6 rompecabezas, compré 5 más, y ahora tengo muchos.

(Dibuja un cuadro para representar el número que falta.)

9 Valor Posicional, Gráficas, y Geometría




Utiliza éstos dígitos para anotar

A. el número más grande. _____

B. el número más chico. _____

C. $6000 + 60 + 3 + 100$. _____

10 Dinero



Anota la cantidad usando palabras y números.
