


Nombre _____

Calificación _____

1 Datos básicos



$8 + 6 = \underline{\quad}$	6	5	4	18	14	16
$\underline{\quad} = \underline{\quad}$	$+ 6$	$+ 5$	$+ 4$	$\underline{- 9}$	$\underline{- 7}$	$\underline{- 8}$
$14 - 8 = \underline{\quad}$						
$\underline{\quad} = \underline{\quad}$						

2 Patrones y progresiones


Anota los números que vienen antes y después.

_____ 685 _____

3 Fracciones


Dibuja líneas para dividir este círculo en cuartos. Colorea 4 de los cuartos.

Si comes 4 de los cuartos de un pastel, te comerás _____. (todo, la mitad, nada)




4 La hora

José empezó a las _____.



← Trabajo ____ horas. →



Terminó a las _____.

5 Algoritmos

68	$\$8.52$	534	366
$+ 68$	$+ 4.40$	$- 127$	$- 148$


6 Anotación de números

Anota el número mil.

C	D	U	C	D	U
millares					

7 Problemas para resolver

Ana pintó ocho dibujos grandes y siete pequeños. Se quedó con seis y vendió el resto. ¿Cuántos dibujos vendió?



8 Palabras, signos y ecuaciones

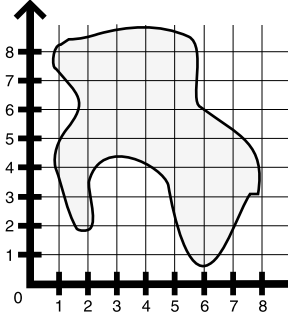
La operación opuesta a la suma es la _____.

(resta, multiplicación, división)


9 Valor posicional, gráficas y geometría

¡Hoy vamos a marcar dos tesoros en el mapa! Para mostrar dónde cavar para encontrar el tesoro terrestre, dibuja un punto grande en (2,5).

Para mostrar dónde nadar para encontrar el tesoro sumergido, dibuja una X en (1,6).



10 Dinero



Anota la cantidad usando palabras y números.
