
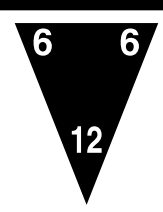



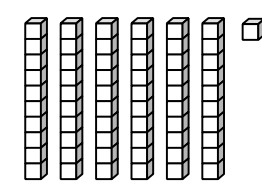
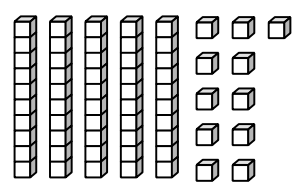

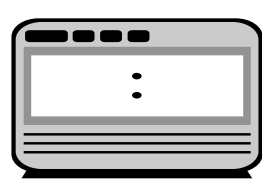


NOMBRE _____

CALIFICACIÓN _____

1	<p>ANOTACIÓN Y SÍMBOLOS</p> <p>> ó <</p> <p>42 ● 94</p> <p>40 + 2 ● 40 + 6</p>	2	<p>PATRONES</p> 										
3	<p>SUMA Y RESTA</p> <table style="width: 100%;"> <tr> <td style="width: 50%;">64 manzanas +17 manzanas</td> <td style="width: 50%;">46 tazas -18 tazas</td> </tr> </table>	64 manzanas +17 manzanas	46 tazas -18 tazas	4	<p>NÚMEROS ORDINALES Y CARDINALES</p> <p>Hay 7 niños en la fila. Miguel es el penúltimo. Miguel es el _____ en la fila.</p> <p>sexto séptimo octavo</p>								
64 manzanas +17 manzanas	46 tazas -18 tazas												
5	 <p>_____ = _____</p> <p>_____ = _____</p>	<p>DATOS BÁSICOS</p> <table style="width: 100%;"> <tr> <td style="text-align: center;">3</td> <td style="text-align: center;">6</td> <td style="text-align: center;">4</td> <td style="text-align: center;">8</td> <td style="text-align: center;">9</td> </tr> <tr> <td style="text-align: center;">+ 4</td> <td style="text-align: center;">+ 7</td> <td style="text-align: center;">+ 5</td> <td style="text-align: center;">- 7</td> <td style="text-align: center;">- 4</td> </tr> </table>		3	6	4	8	9	+ 4	+ 7	+ 5	- 7	- 4
3	6	4	8	9									
+ 4	+ 7	+ 5	- 7	- 4									
6		<p>PROBLEMAS PARA RESOLVER</p> <p>Alicia tiene 10 años. Su hermana tiene 5 años.</p> <p>¿Cuántos años más tiene Alicia que su hermana?</p> <p>_____</p>											
7		<p>DINERO</p> <p>Paola tiene _____.</p> 											
8		<p>VALOR POSICIONAL</p> <p>_____ decenas + _____ unidades</p> <p>es lo mismo como</p> <p>_____ decenas + _____ unidad</p> 											
9		<p>LA HORA</p> <p>Muestra la misma hora en el otro reloj.</p> 											
10	<p>FRACCIONES Y GEOMETRÍA</p> <p>Colorea el triángulo que está dentro del círculo.</p> 